

『2018年度受験用中学入試問題集 理科編』訂正

ISBN: 978-4-8403-0674-4

●問題 837 ページ「富士見中学校(第1回)」

4 問3 (誤) 電源電圧が $5A$ で AC 間の距離が 20 cm の場合, ダイオードが明るく点灯するのは AD 間の距離が何 cm のときですか。

(正) 電源電圧が $5V$ で AC 間の距離が 20 cm の場合, ダイオードが明るく点灯するのは AD 間の距離が何 cm のときですか。

●解答 7 ページ「國學院大學久我山中学校(B)」

3 (5) (誤) 19% → (正) 21%

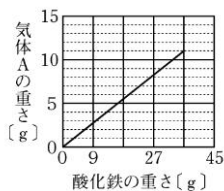
●解答 9 ページ「専修大学松戸中学校(第1回)」

3 (5) ③ (誤) カ → (正) オ

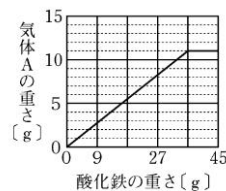
●解答 10 ページ「中央大学附属横浜中学校(第1回)」

1 問4

(誤)

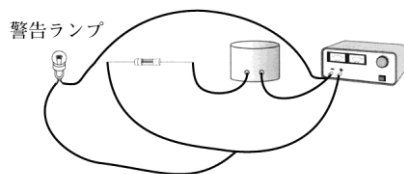


(正)

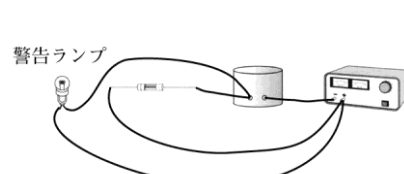


●解答 11 ページ「東京学芸大学附属世田谷中学校」

7 (2) (誤)



(正)



●解答 12 ページ「広尾学園中学校(第1回)」

1 問4 (誤) $0.5A$ → (正) $2A$

4 問3 ② (誤) カコウ岩 → (正) ハンレイ岩

●解答 15 ページ「浅野中学校」

1 (7) (誤)エ → (正)イ

4 (7) (誤)イ → (正)エ

●解答 17 ページ「暁星中学校」

1 (3) (誤)ア → (正)ウ

1 (4) (誤)ウ → (正)イ

●解答 19 ページ「逗子開成中学校(第1回)」

4 (2) (誤)ア → (正)エ

●解答 21 ページ「日本大学豊山中学校(第1回)」

1 問1 (誤)(ア) → (正)(ア) ※(エ)も可

●解答 23 ページ「横浜中学校(1次)」

2 (2) ② (誤)ウ → (正)オ

●解答 24 ページ「早稲田大学高等学院中学部」

2 問5 (誤)ア15 イ16 → (正)ア3 イ4

4 問4 (誤)ア → (正)ア, ウ

●解答 31 ページ「湘南白百合学園中学校」

1 (2) ⑥ (誤)30 → (正)20

●解答 32 ページ「女子学院中学校」

4 4 (1) (誤)○ → (正)×

●解答 33 ページ「白百合学園中学校」

2 問10 ④ (誤)(イ) → (正)(キ)

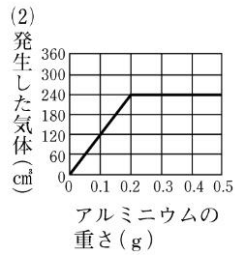
●解答 34 ページ「洗足学園中学校(第1回)」

3 (3) (誤)ウ → (正)オ

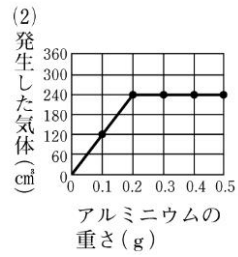
●解答 35 ページ「東京女学館中学校(第1回)」

2 (2)

(誤)

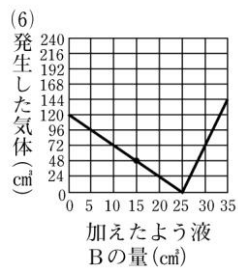


(正)

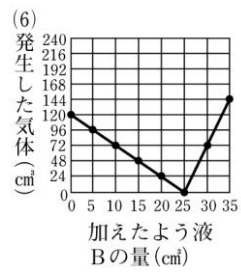


(6)

(誤)



(正)



●解答 37 ページ「聖園女学院中学校(第1回)」

2 (4) (誤)(イ) → (正)(エ)

以上