




(3) 下の写真はガスバーナーの^{ほのお}炎の様子です。どの炎で加熱するのが良いですか。次のア～ウから選び、記号で答えなさい。



ア



イ




ウ

(4) ガスバーナーのねじをまわしたら、上の写真の炎がアからイになりました。

右のガスバーナーのどのねじをどの向きにまわしたのでしょうか。次のア～エから1つ選び、記号で答えなさい。

ただし、まわす向きは上から見た時とします。



ア、Xのねじを左（反時計）まわりにまわす。

イ、Xのねじを右（時計）まわりにまわす。

ウ、Yのねじを左（反時計）まわりにまわす。

エ、Yのねじを右（時計）まわりにまわす。